

КРАЕВЕДЧЕСКИЙ ДИКТАНТ

7-е – 8-е классы



Дорогие ребята!

Вы живете и учитесь в Красногвардейском районе Санкт-Петербурга, которому **13 апреля 2018 года** исполнится **45 лет!**

Жители района и сегодня свято берегут и приумножают лучшие традиции старших поколений, вносят достойный вклад в социально-экономическое и духовное развитие района и всего города, в сохранение мира, стабильности и согласия в обществе.

Именно с целью привития любви к родному краю и к нашему городу проводится данный диктант

Напишите на листе бумаги:

Фамилия, имя:

Класс:

Школа:

Вам предстоит выполнить задания трех видов:

Задания №№ 1 – 9, 11 – 13, 16, 19, 20, 22 – 26, 29 – 30

- Напишите номер задания. Рассмотрите изображение. Прочтите задание, выберите правильный ответ. Запишите его рядом с номером задания.

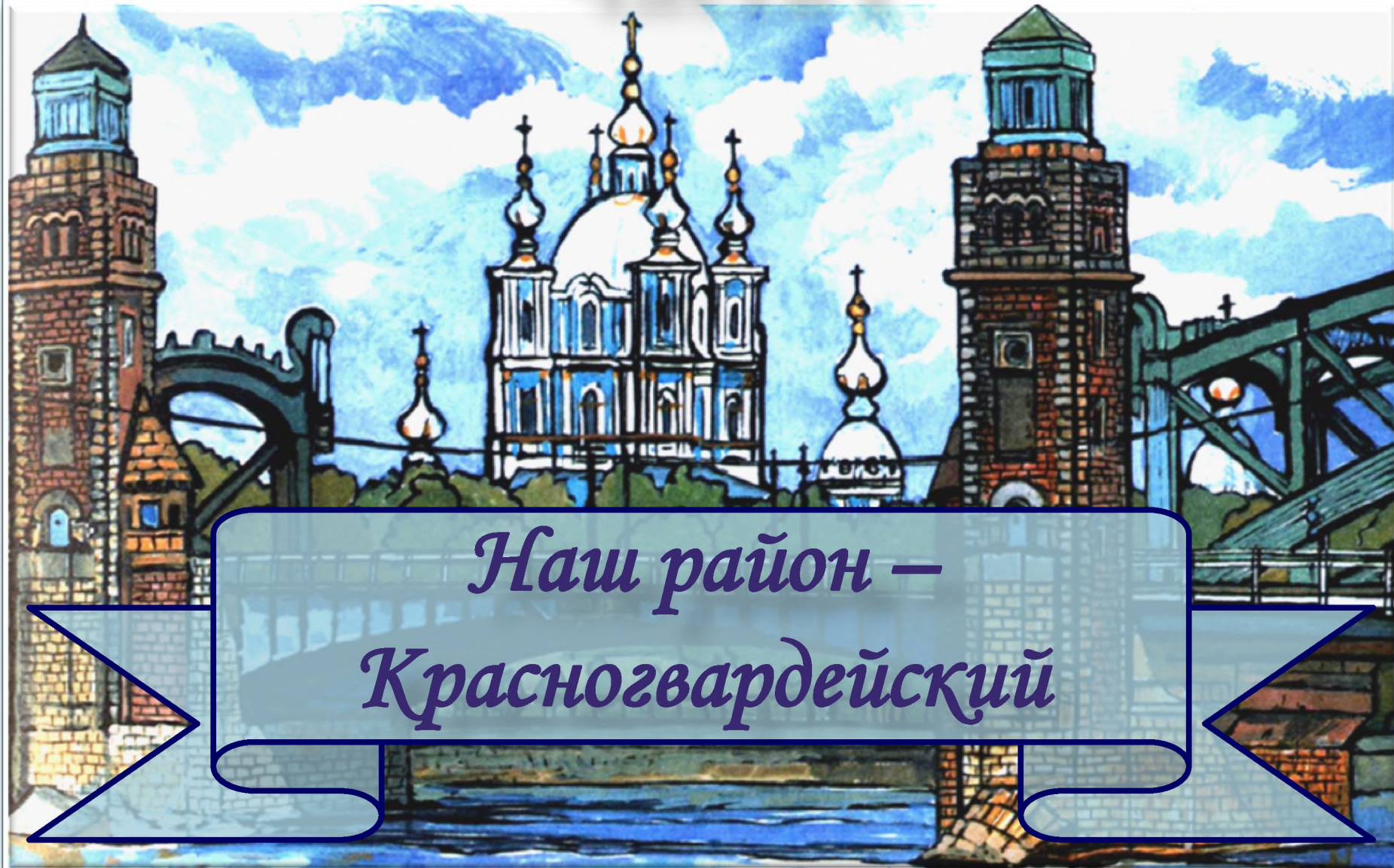
Задания №№ 10, 27

- Соотнесите описание памятника с его изображением. Запишите номер описания рядом с буквой соответствующей фотографии.

Задания №№ 14, 15, 17, 18, 21

- Напишите номер задания. Рассмотрите изображение. Прочтите тексты, пропущенные слова запишите в бланк ответов

Часть I



*Наш район –
Красногвардейский*

1

Рассмотрите карту Санкт-Петербурга.

В какой части города находится Красногвардейский район?

- а) на западе
- б) на северо-востоке
- с) на юге



2

Название Красногвардейского района связано?

- a) с Красной гвардией, появившейся в Петрограде в 1917 году
- b) с Великой Отечественной войной 1941 – 1945гг.
- c) с современным Санкт-Петербургом



Значок Красной гвардии



А.Ю. Дроздов «Хлеб войны», 2005



Проект «Охта-центр»

3

Какие реки протекают на территории Красногвардейского района?

- а) Охта и Оккервиль
- б) Мойка и Фонтанка
- с) Большая и Малая Невка



4

Название **Охта** в переводе означает?

- а) Волчья б) Заячья с) Медвежья



«Весна на Охте». Художник Марк Кремер, 2008

5

Перед Вами этикетка минеральной воды. Так же называется и округ в составе Красногвардейского района. Название «Полюстрово» происходит от латинского *palustris*, что означает?

- а) болотистый б) обширный в) тенистый



6

Название Ириновского проспекта происходит от?

- a) имени Ирина
- b) фамилии владельца этих территорий
- c) названия Ириновской железной дороги, по трассе которой проходит сейчас проспект



Ириновский проспект

7

Назовите имя советского исторического деятеля 1960 – 1980-х гг., в честь которого был назван проспект в нашем районе:

- а) А.Н. Косыгин
- б) Ю.В. Андропов
- с) Л.И. Брежнев



8

Какой мост **не связывает** Красногвардейский район с другими районами города?

- a) Большеохтинский (мост Петра Великого)
- b) Благовещенский
- c) Александра Невского



9

Построенный в 1967г. мост Александра Невского был назван в честь?

- а) новгородского князя XIII века
- б) участника Великой Отечественной войны 1941-1945 гг.
- в) современного культуриста и киноактёра



10

Соотнесите памятник архитектуры с его изображением:

А.

1. Дом для проживания священников в Ильинской слободе
2. Усадьба «Жерновка»
3. Уткина дача




В.



С.





Рассмотрите изображение храмов нашего района, которые были построены в конце XVIII – начале XIX века. Что Вы видите на фотографии?

- а) храм Святого Илии Пророка
- б) храм Святого Николая Чудотворца
- с) храм Святого Илии Пророка и храм Святого Александра Невского

12

Рассмотрите фотографию. Что на ней изображено?

- а) склады купцов Елисеевых
- б) казармы Новочеркасского полка
- в) старый гостиный двор



Красногвардейская площадь, дом 3, литеры Д, Ф, В, Б, Х

Часть II



Вспомним историю нашего края

13



История нашего края связана с многовековой борьбой русского народа со шведами. В 1300г. шведы поставили в устье Охты древоземляную крепость, которую называли «Ландскрона», что в переводе означало:

- а) «венец земли» б) «соль земли» с) «центр земли»

14

В 1323г. новгородцы для защиты своих земель основали у истоков Невы крепость Орешек, где и был заключен «_____мир» со шведами.

По этому мирному договору южная граница между Новгородской боярской республикой и Шведским королевством проходила по реке _____ на Карельском перешейке.





К концу XVI века в устье Охты располагалось русское торговое поселение **Невское устье**.

Жители края занимались земледелием (выращивали _____, _____, _____), скотоводством, рыболовством, строили _____. Торговали рожью, солью, пушниной, лесом, пенькой, дегтем. Через Невское устье шла и восточная торговля: в Европу везли восточные _____, _____, _____.

16


В 1611г. шведы заложили в устье Охты крепость Ниеншанц.

По приказу какого шведского полководца она была основана?

- а) Торстена Сталандске
- б) Якоба де ла-Гарди
- с) Нилса Брахе




Художник А. Тронь



Ниеншанц имел свой герб и печать. На печати был изображён ____, стоящий между двумя ____ и держащий в правой лапе ____.

18

Бастионы крепости Ниеншанц назывались _____ (в честь шведского короля Карла X), _____ (в честь генерал-губернатора Ингерманландии), _____, _____ и _____.





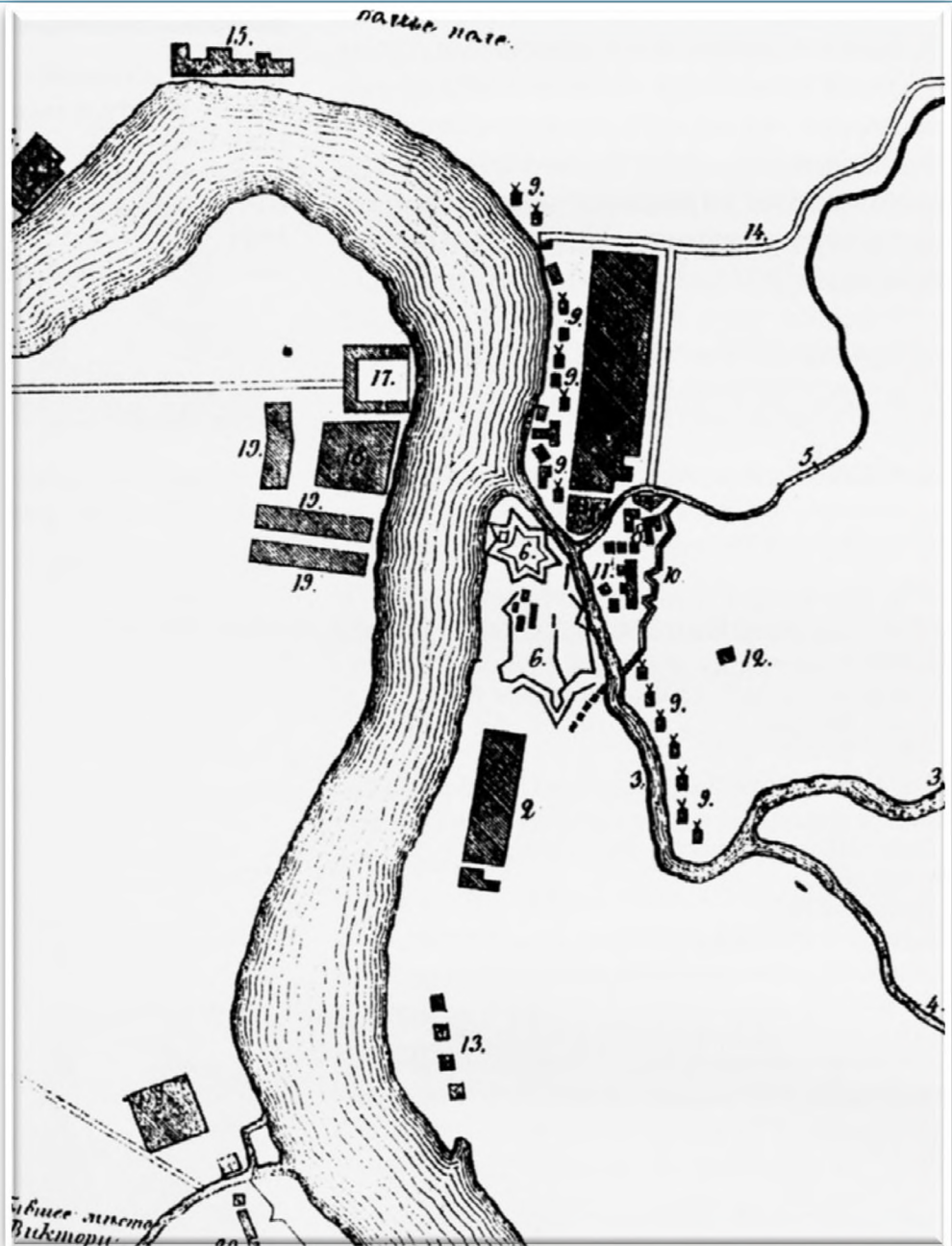
В каком году крепость Ниеншанц была взята русскими войсками?

- a) 1703 b) 1701 c) 1706



В 1720-е гг. Охта была заселена по указам Петра I «способными к судовой работе» плотниками из губерний:


- а) Архангельской, Вологодской, Олонецкой, Ярославской
- б) Тульской, Рязанской, Вологодской
- в) Астраханской, Казанской, Уральской



21

Охтинская верфь располагалась на Охтинском мысу, там, где некогда находилась шведская крепость _____.

Под руководством известных корабельных мастеров _____, _____, _____ охтинскими мастерами строились линейные корабли _____, _____, _____, принешие славу Российскому флоту. Всего за полвека здесь было построено около десяти крупных линейных кораблей, более двадцати фрегатов, 30 корветов и бригов и около ста судов других классов.



«Охта». Художник Ф. Перро, 1841

22

Какой корабль был построен на Охтинских верфях в XIX веке?

- а) Шлюп «Диана», который совершил кругосветное путешествие в 1807 – 1811гг.
- б) Фрегат «Паллада», который совершил переход из Кронштадта в Японию с 1852г. по 1855г.



«Диана»



«Паллада»




25 сентября 1911 года охтяне возвели памятник Петру I. Памятник был утрачен, но в 2003 году бронзовый бюст на постаменте из серого гранита вновь появился на своём месте.

По какому адресу находится этот памятник Петру I?

- а) Большеохтинский пр., 3
- б) Малоохтинский пр., 56
- с) шоссе Революции, 11

24



В каком году был основан Охтинский пороховой завод на берегах Охты?

a) 1703

b) 1715

c) 1717

d) 1727

25

Рассмотрите изображение рабочего Охтинского порохового завода.

Как вы думаете, почему именно так выглядела его одежда?

- а) рабочие были каторжниками, и так выглядела тюремная роба
- б) одежда защищала рабочих от возможных возгораний пороха
- с) рабочие брали на себя церковный обет никогда не показывать своего лица





В 1890г. на Пороховском кладбище был установлен по проекту архитектора Р.Р.Марфельда памятник в честь?

- а) павших в войне с Наполеоном
- б) умерших во время эпидемии холеры
- с) погибших во время взрывов на Охтинских заводах

27

Соотнесите памятники Великой Отечественной войны 1941-1945 гг. на территории Красногвардейского района и фотографии:

1. Памятник погибшим в годы войны рабочим и служащим Охтинского химического комбината
2. Монумент на Мемориальной трассе «Ржевский коридор блокады» (ул. Красина)
3. «1-й км Дороги жизни». Мемориальный столб (Рябовское шоссе)

A.



B.




C.




28

Во время блокады эвакуация из Ленинграда шла не только по льду или воде Ладоги, но и по воздуху. Для этого на территории нашего района в сентябре 1941г. был построен аэродром, который во время войны назывался?

- а) «Дубовое» б) «Еловое» в) «Смольное»



Пассажирский самолёт ЛИ - 2



Оформление станции метро «Ладожская» было посвящено:

- а) «пути из варяг в греки»
- б) Ладожскому каналу Петра I
- в) «Дороге жизни» во время блокады

30

На 3-м километре Дороги жизни находится мемориальный комплекс, посвященный детям блокадного города. Как называется памятник, который Вы видите на фотографии:

- а) «Цветок жизни»
- б) «Цветок славы»
- с) «Цветок памяти»




**Спасибо
за Ваши ответы!!!**

Краеведческий диктант подготовлен учителями
истории и культуры Санкт-Петербурга
Игорем Евгеньевичем Филипенко (ГБОУ СОШ 141) и
Наталией Всеволодовной Дудкиной (ГБОУ гимназия № 405)

под руководством Натальи Павловны Столбовой,
автора учебной книги «Охтинские уроки –
уроки петербургских традиций» (СПб., 2013),
методиста краеведения ДДТЮ «На Ленской»

В подготовке диктанта принимала участие
Любовь Михайловна Вакуленко, заместитель директора
ДДЮТ «На Ленской»
Санкт-Петербург, 2017



Ключ к Краеведческому диктанту

7-8 классы

Задания 1-9, 11-13,16,19,20,22-26,28-30 оцениваются по 1 баллу. Задания 10 и 27 оцениваются из 3 баллов. Задания 14, 15,17,18, 21 оцениваются из 2 баллов

1-b

2-a

3-a

4-c

5-a

6-c

7-a

8-b

9-a

10-(1-A, 2-B, 3-C)

11-c

12-b

13-a

14- Ореховецкий; Сестра

15-лен, рожь, ячмень; корабли; шелка, тафту, пряности

16-b

17- лев; реками;меч

18-Карлов; Гельмфельтов; Мельничный, Старый, Мертвый

19-a

20-a

21-Ниеншанц; Стоке, Брюна, Попова, Амосова; фрегаты, корветы, бриги

22-b

23-a

24-b

25-b

26-c

27-(1-B, 2-A, 3-C)

28-c

29-c

30-a