

КРАЕВЕДЧЕСКИЙ ДИКТАНТ

9-е – 10-е классы



Дорогие ребята!

Вы живете и учитесь в Красногвардейском районе Санкт-Петербурга, которому **13 апреля 2018 года** исполнится **45 лет!**

Жители района и сегодня свято берегут и приумножают лучшие традиции старших поколений, вносят достойный вклад в социально-экономическое и духовное развитие района и всего города, в сохранение мира, стабильности и согласия в обществе.

Именно с целью привития любви к родному краю и к нашему городу проводится данный диктант

Подпишите бланк ответов:

Фамилия, имя:

Класс:

Школа:

Вам предстоит выполнить задания четырех видов:

Задания №№ 1, 6, 9, 15, 17

- Рассмотрите изображения, прочтите тексты. Запишите свои ответы на вопросы.

Задания №№ 2 – 4, 7, 10, 13, 14, 16, 19 – 31, 33, 34, 36 – 38

- Рассмотрите изображение. Прочтите задание, выберите правильный ответ. Запишите его рядом с номером задания.

Задания №№ 32, 35

- Соотнесите описание памятника с его изображением. Запишите номер описания рядом с буквой соответствующей фотографии.

Задания №№ 5, 8, 11, 12, 18

- Рассмотрите изображение. Прочтите тексты, вставьте пропущенные слова, запишите их в бланк ответов

Часть I



Вспомним историю нашего края

1

А. Кого русичи называли варягами?

В. Рассмотрите карту, назовите города и населенные пункты, через которые проходил путь «из варяг в греки»



2

В каком году произошла Невская битва?

а) в 1240

б) в 1340

в) в 1440

3

Новгородскими войсками руководил?

а) Александр Ярославич

б) Дмитрий Донской

в) Петр Первый



4



В 1300 году шведы построили в устье Охты крепость, «Ландскрона». Что означало это слово?

- а) «Венец земли»
- б) «Медвежий острог»
- с) «Баранья тюрьма»

5

В 1323г. новгородцы для защиты своих земель основали у истоков Невы крепость Орешек, где и был заключен «_____мир» со шведами.

По этому мирному договору южная граница между Новгородской боярской республикой и Шведским королевством проходила по реке _____ на Карельском перешейке.



6

К концу XVI века в устье Охты располагалось русское торговое поселение Невское устье.

А. Жители края выращивали _____, _____, _____

В. Они строили _____.

С. Жители края торговали _____, _____, _____.



7

В 1611г. шведы заложили в устье Охты новую крепость – Ниеншанц.

По приказу какого шведского полководца была основана крепость?

- а) Торстена Сталандске
- б) Якоба де ла-Гарди
- с) Нилса Брахе



Художник А. Тронь

8


Рассмотрите изображения диорамы крепости Ниеншанц и города Ниен в устье Охты.

Бастионы крепости назывались:

_____ (в честь шведского короля Карла X),

_____ (в честь генерал-губернатора Ингерманландии),

а еще _____, _____, и _____.



Макет крепости Ниеншанц

9

Перед вами оттиск печати города Ниена.

Рассмотрите его.

Какие две реки
попирает лев?



10



В каком году крепость Ниеншанц была взята русскими войсками?

а) 1703

б) 1706

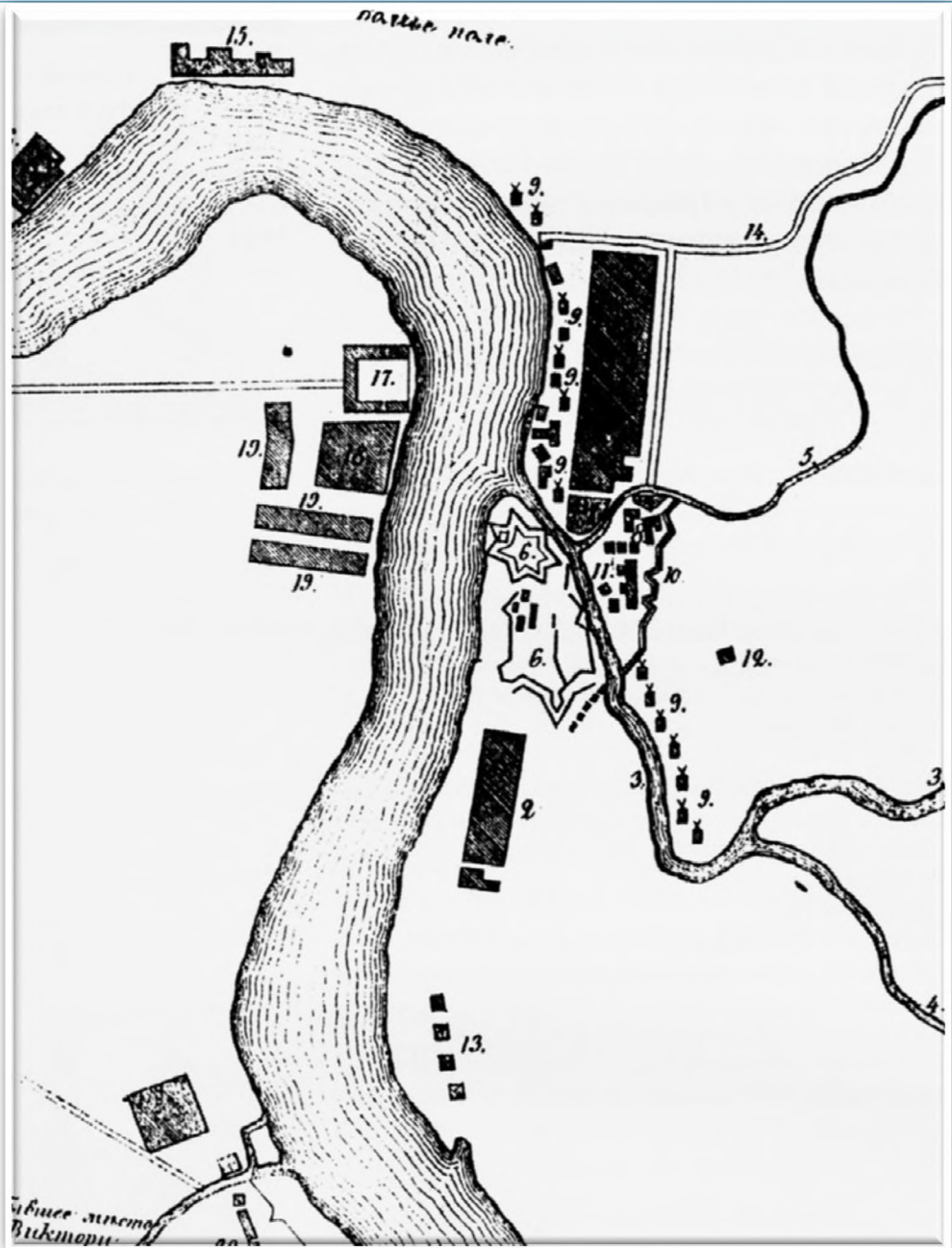
в) 1709



11

В 1720-е гг. Охта была заселена по указам Петра I «способными к судовой работе» плотниками из северных губерний: _____,

_____, _____




Спуск на воду
фрегата
«Паллада»
на Охтинской
верфи, 1832г.



В 1808г. на месте шведского Ниеншанца была создана Охтинская учебная верфь. В июле 1811г. здесь в присутствии Александра I было спущено на воду первое судно – шхуна «_____».

В 1828г. Охтинская верфь получила статус _____ и в следующие десятилетия была одним из крупных центров военного кораблестроения Санкт-Петербурга.



В каком году был основан Охтинский пороховой завод?

- a) 1703 b) 1715 c) 1717 d) 1727

14



В 1770-е гг. для проверки состояния громоотводов пороховых погребов Охтинского порохового завода сюда неоднократно приезжал известный математик

- a) Карл Фридрих Гаусс
- b) Готфрид Вилхелм Лейбниц
- c) Леонард Эйлер

15

Рассмотрите изображение рабочего Охтинского порохового завода.

Как вы думаете, почему именно так выглядела его одежда?





25 сентября 1911 года охтяне возвели памятник Петру I как основателю охтинских селений. Памятник был утрачен, но в 2003 году бронзовый бюст на постаменте из серого гранита вновь появился на своём месте.

По какому адресу находится этот памятник Петру I?

- а) Большеохтинский пр., 3
- б) Малоохтинский пр., 56
- в) шоссе Революции, 11

17




Рассмотрите изображения охтинок. Чем занимались охтинские женщины?

В XIX веке зимой на Неве происходили кулачные бои. С охтинской стороны выступали жители Большой и Малой Охты, с противоположной – калашниковские «крючники» (рабочие-грузчики), отличившиеся большой физической силой и выносливостью.

Кулачные бои ярко описал в своей повести «Поречане» писатель _____, живший на Малой Охте и наблюдавший их неоднократно.



19



В 1750г. охтинские резчики принимали участие в создании модели какого монастыря?

- a) Иоанновский
- b) Смольный
- c) Новодевичий



Часть II



*Наш район –
Красногвардейский*

20

Рассмотрите карту Санкт-Петербурга.

В какой части города находится Красногвардейский район?

- а) на западе
- б) на северо-востоке
- с) на юге



21

С чем связано название Красногвардейского района?

- a) с революцией и Гражданской войной 1918 – 1922гг.
- b) с событиями Второй мировой войны 1939 – 1945гг.
- c) с современной Россией



Значок Красной гвардии



А.Ю. Дроздов «Хлеб войны», 2005



Проект «Охта-центр»

22

Название Ириновского проспекта происходит от?

- a) имени Ирина
- b) фамилии владельца этих территорий
- c) названия Ириновской железной дороги, по трассе которой проходит сейчас проспект



Ириновский проспект

23

Назовите имя советского исторического деятеля 1960 – 1980-х гг., в честь которого был назван проспект в нашем районе:

- a) А.Н. Косыгин
- b) Ю.В. Андропов
- c) Л.И. Брежнев



24

Какие реки протекают на территории Красногвардейского района?

- а) Охта и Оккервиль
- б) Мойка и Фонтанка
- с) Большая и Малая Невка



25

Название **Охта** в переводе означает:

- а) Волчья б) Заячья в) Медвежья



«Весна на Охте». Художник Марк Кремер, 2008

26

Перед Вами этикетка минеральной воды. Так же называется и округ в составе Красногвардейского района. Название «Полюстрово» происходит от латинского *palustris*, что означает?

- а) болотистый б) обширный в) тенистый



27



Оформление станции метро Ладужской было посвящено?

- а) «пути из варяг в греки»
- б) Ладужскому каналу Петра I
- в) «Дороге жизни» во время блокады

28

Какой мост **не** находится на территории Красногвардейского района?

- a) Большеохтинский (мост Петра Великого)
- b) Благовещенский
- c) Александра Невского




29

Построенный в 1967г. мост Александра Невского был назван в честь?


- а) новгородского князя XIII века
- б) участника Великой Отечественной войны 1941-1945 гг.
- в) современного культуриста и киноактёра





Рассмотрите изображение храмов нашего района, которые были построены в конце XVIII – начале XIX века. Что Вы видите на фото?

- а) храм Святого Илии Пророка
- б) храм Святого Николая Чудотворца
- с) храм Святого Илии Пророка и храм Святого Александра Невского



Храм Св. Илии Пророка
был построен в 1785г.

- а) на Охтинском
пороховом заводе
- б) на Охтинской
судостроительной
верфи
- с) на Охтинской
заставе

32

Соотнесите памятник архитектуры с его изображением:

А.

1. Дом для проживания священников в Ильинской слободе
2. Усадьба «Жерновка»
3. Уткина дача



В.



С.



33

Рассмотрите фотографию. Что на ней изображено?

- а) склады купцов Елисеевых
- б) казармы Новочеркасского полка
- с) старый гостиный двор



Красногвардейская площадь, дом 3, литеры Д, Ф, В, Б, Х



В какой войне сражался этот полк в 1904 – 1905 гг.?

- а) русско-турецкой б) русско-японской с) русско-шведской

«Вручение Николаем II
знамени 145-му пехотному
Новочеркасскому полку»,
1900 г.



35

Соотнесите памятники Великой Отечественной войны на территории Красногвардейского района и фотографии:

1. Памятник погибшим в годы войны рабочим и служащим Охтинского химического комбината
2. Монумент на Мемориальной трассе «Ржевский коридор блокады» (ул. Красина)
3. «1-й км Дороги жизни». Мемориальный столб (Рябовское шоссе)

A.



B.




C.



36

Во время блокады эвакуация из Ленинграда шла не только по льду или воде Ладоги, но и по воздуху. Для этого на территории нашего района в сентябре 1941г. был построен аэродром, который во время войны назывался?

- а) «Дубовое» б) «Еловое» в) «Смольное»



Пассажирский самолёт ЛИ - 2

37

На территории нашего района с XIX века располагается Ржевский полигон. На нём:

- а) выращивали овощи и фрукты в парниках
- б) занимались добычей торфа
- с) испытывали военные боеприпасы



На 3-м километре Дороги жизни находится мемориальный комплекс, посвященный детям блокадного города. Как называется памятник, который Вы видите на фотографии:

- а) «Цветок Жизни»
- б) «Цветок славы»
- с) «Цветок памяти»




**Спасибо
за Ваши ответы!!!**

Краеведческий диктант подготовлен учителями
истории и культуры Санкт-Петербурга
Игорем Евгеньевичем Филипенко (ГБОУ СОШ 141) и
Наталией Всеволодовной Дудкиной (ГБОУ гимназия № 405)

под руководством Натальи Павловны Столбовой,
автора учебной книги «Охтинские уроки –
уроки петербургских традиций» (СПб., 2013),
методиста краеведения ДДТЮ «На Ленской»

В подготовке диктанта принимала участие
Любовь Михайловна Вакуленко, заместитель директора
ДДЮТ «На Ленской»
Санкт-Петербург, 2017



Ключ к Краеведческому диктанту

9-10 Классы

Задания 2-4,7,10,13,14,16, 19-31,33,34, 36-38 оцениваются по 1 баллу.

Задания 1,15,17,32,35 оцениваются из 3 баллов. Задания

5,6,8,9,11,12,18 оцениваются из 2 баллов

1. А-Жителей Балтийского моря

В-Ладога, Новгород, Смоленск, Витебск, Чернигов, Киев, Переяславль

2-а

3-а

4-а

5- *Ореховецкий; Сестра*

6. *А - лен, рожь, ячмень*

В-корабли

С-рожьё, солью, пушиной

7-в

8- *Карлов, Гельмфельтов, Мельничный, Старый и Мертвый*

9-*Нева и Охта*

10-а

11-*Архангельская, Вологодская, Олонецкая, Ярославская*

12-*Стрела; Адмиралтейство*

13-в

14-с

15- *Чтобы предохранять кожу от возгорания*

16-а

17-*разводили коров и торговали молоком*

18-*Помяловский*

19-b

20-b

21-a

22-c

23-a

24-a

25-c

26-a

27-c

28-b

29-a

30-c

31-a

32-(1-A, 2-B, 3-C)

33-b

34-b

35--(1-B, 2-A, 3-C)

36-c

37-c

38-a